


Nume și prenume	Școala	Profesor



MINISTERUL EDUCAȚIEI ȘI CERCETĂRII ȘTIINȚIFICE
INSPECTORATUL ȘCOLAR JUDEȚEAN ARGHEȘ
ȘCOALA GIMNAZIALĂ „MATEI BASARAB” – PITEȘTI
Str. Ghe. Ionescu Gion Nr.5, 110310; Tel/fax: 0248.28.55.17
<http://www.scoalamateibasarab.ro>



Concursul județean „Școala dă aripi spre lumină”
Clasa aIV-a, 21 aprilie 2016
Limba și literatura română
Varianta 1

Citiți cu atenție textul de mai jos!

Lizuca se poticni și se izbi cu capul de perete. Apoi, smârcâind, își înghiți și-și stăpâni lacrimile și-și întoarse iar pieziș spre slujnică privirea de hoț.

Dar Ileana intrase în kuhne și vorbea subțire și năvalnic cu bucătarea. Duduia Lizuca putu să-și usuce în voie lacrimile cu acea parte a mânicilor cu care ștergea și nasul. Apoi, observă, aproape, pe prietenul ei Patrocle și zâmbi.

Patrocle era un boldei roșcat, cu picioarele scurte și strâmbe și cu capul mare. Între ochii omenești, sprâncenați negru, avea adânci crețuri perpendiculare și anii și experiențele vieții îi încărunțiseră perii din jurul botului.

Îndată ce văzu surâsul duduii Lizuca, se apropie și începu a-i linge mâna, plină încă de șerbet de portocale.

-M-au bătut și ieri, oftă Lizuca; m-au bătut și azi; mă bat în fiecare zi...

Patrocle o înțelese ca întotdeauna. După ce-i curăți mâna, se întoarse pe etichete de dinapoi, se înălță, se sprijini ușor de pieptul fetiței și o mângâie, ștergându-i de pe obraz urma lacrimilor sărate.

- Patrocle, îi zise Lizuca; tata nu mai vine de la București și pe bunici nu i-am văzut de multă vreme. Nici nu ne lasă să ne mai ducem pe-acolo. De când a murit mama, noi petrecem tare rău.

(„Dumbrava minunată”- M. SADOVEANU)

Partea I.

5p

Încercuiește răspunsul corect:

1. Povestirea se numește:

- a) Duduia b) Duduia Lizuca c) Lizuca și Patrocle d) Dumbrava minunată

5p

2. Autorul textului este:

- a) I. Creangă b) M. Sadoveanu c) M. Eminescu d) P. Ispirescu

5p

3. Care este cuvântul cu sens asemănător pentru „kuhne” :

- a) dormitor b) salon c) bucătărie d) prispă

5p

4. Explicați sensul pe care-l au în text cuvintele :

se poticni = _____ năvalnic = _____ se izbi = _____

pieziș = _____ slujnică = _____

Partea a II-a:

5p

1. Scrie forma de plural pentru următoarele substantive:
viață - _____ obraz - _____ lacrimă- _____
ochi - _____ boldei - _____

10p

2. Selectați din text:
a) un substantiv comun, numărul singular, genul masculin;
b) un substantiv propriu, numărul singular, genul feminin;
c) un adjectiv, numărul plural, genul neutru;
d) un pronume personal, persoana a III-a, numărul singular, genul feminin;
e) un verb, persoana a III-a, numărul plural, timpul trecut.

10p

3. Formulați enunțuri cu următoarele expresii:
„a bate câmpii”; „a bate la cap”; „a se bate cu pumnii în piept”; „a bate pasul pe loc”; „a bate drumul”.

5p

4). Alcătuiți o propoziție simplă formată din cinci cuvinte.

10p

5). Selectați din text enunțurile din care reiese prietenia dintre Lizuca și Patrocle.

Partea a III-a:

30p

Plecând de la textul de mai sus, realizați o compunere cu titlul „Prietenie”.

**Notă: Timp de lucru 2 ore.
Se acordă 10 puncte din oficiu**

Concursul județean „Școala dă aripi spre lumină”

Clasa aIV-a, 21 aprilie 2016

Limba și literatura română

Varianta 1

BAREM DE CORECTARE

Partea I:

1.	2.	3.	4.
d	b	C	se poticni = se împiedică; năvalnic = repede; se izbi = se lovi; pieziș = într-o parte; slijnică = servitoare
5p	5p	5p	5 x 1p = 5p

Partea a II-a:

1.	vieți obraji lacrimi ochi boldei	5 x 1p = 5p
2	Se acordă câte 2 puncte pentru fiecare parte de vorbire selectată corect	5 x 2p = 10p
3	Se acordă câte 2 puncte pentru fiecare enunț formulat corect	5 x 2p = 10p
4	Formularea corectă a propoziției simple (subiect multiplu + predicat)	5p
5	Se acordă câte 2 puncte pentru fiecare enunț selectat corect	5 x 2p = 10p
	a) Apoi, observă, aproape pe prietenul ei Patrocle.	
	b) Îndată ce văzu surâsul duduii Lizuca, se apropie și începu a-i linge mâna, plină de șerbet de portocale.	
	c) Patrocle o înțelese ca întotdeauna.	
	d) După ce-i curăți mâna, se întoarse pe labele de dinapoi, se înalță, se sprijini ușor de pieptul fetei și o mângâie, ștergându-i de pe obraz urma lacrimilor sărate.	
	e) De când a murit mama, noi petrecem tare rău.	

Partea a III-a

Redactarea compunerii	30p
- Bogăția conținutului.....	15p
- Concordanța dintre titlu și conținut	2p
- Respectarea părților compunerii	2p
- Succesiunea logică a ideilor.....	2p
- Claritatea exprimării.....	2p
- Folosirea unor expresii deosebite.....	3p
- Originalitate.....	2p
- Așezarea corectă în pagină a textului.....	2p


Notă: Penalități- 0,1p/ greșeală de punctuație și 0,2p/ greșeală de ortografie

Se acordă 10 puncte din oficiu

Nume și prenume	Școala	Profesor



MINISTERUL EDUCAȚIEI ȘI CERCETĂRII ȘTIINȚIFICE
INSPECTORATUL ȘCOLAR JUDEȚEAN ARGES
ȘCOALA GIMNAZIALĂ „MATEI BASARAB” – PITEȘTI
Str. Ghe. Ionescu Gion Nr.5, 110310; Tel/fax: 0248.28.55.17
<http://www.scoalamateibasarab.ro>



Concursul județean „Școala dă aripi spre lumină”
Clasa a-IV-a, 21 aprilie 2016
Matematică

Partea I.

Încercuiește răspunsul corect. Numai un răspuns este corect:

5p

1) $40+3x\{36:9+3x[50+3x(400:8-98:2)]\}=$
a) 530 b)529 c)630 d)429

5p

2) $33:(a+19)=80:2:5:4:2$
a)15 b)14 c)10 d)23

5p

3) Treimea sfertului jumătății lui 48 este.....
a)1 b)3 c)4 d)2

5p

4) Un dreptunghi are perimetrul de 64 m. Dacă lungimea este mai mare cu 20 dm decât lățimea, cât este lungimea?
a)15m b)170m c)15dm d)170dm

5p

5) Suma dintre dublul și triplul unui număr este 45. Care este treimea numărului?
a)2 b)4 c)3 d)5

5p

6) Pentru a aranja 285 de cărți în bibliotecă, avem nevoie de.....rafturi, ținând cont că punem 24 de cărți pe un raft.

5p

7) Pentru a pleca într-o excursie, colegii Mariei au cumpărat 30 de sticle cu capacitatea de 500 ml fiecare. Câți litri conțin cele 30 de sticle?
a)30 litri b) 20 litri c)15litri d)60litri

Partea a II-a:

Scrieți informația corectă care completează spațiile punctate:

5p

1. Triplul diferenței dintre produsul și suma numerelor 154 și 5 este.....

5p

2. Știind că $a:7=28$ și $\text{rest}>3$, atunci a poate fi.....

5p

3. Dacă două optimi dintr-un număr este 24, numărul va fi.....

5p

4. M-am gândit la un număr. L-am mărit cu 17, din rezultat am scăzut triplul lui 9, apoi am adăugat sfertul lui 44 și am obținut 21. Numărul la care m-am gândit este.....

5p

5. Sfertul unui număr este egal cu doimea altui număr. Suma celor două numere este 54. Cel mai mare număr va fi.....

- 5p** 6. Scrie numărul 613 ca o sumă de doi termeni, astfel încât al doilea să fie cu 1 mai mare decât dublul primului.
- 5p** 7. Respectând aceeași regulă de scriere, completați următorul termen al șirului:
2918, 3927, 4936, 5945, 6954, 7963,.....

Partea a III-a:

- 20p**
1. Câtul a două numere este 6, iar restul 21. Știind că suma dintre deîmpărțit, împărțitor, cât și rest este 328, să se afle cele două numere.
 2. Suma a 3 numere naturale este 360. Aflați cele 3 numere știind că primul este cât dublul celui de-al doilea număr, iar cel de-al doilea este cât triplul celui de-al treilea.

Notă: Timp de lucru 2 ore.

Se acordă 10 puncte din oficiu

Concursul județean „Școala dă aripi spre lumină”
Clasa a-IV-a, 21 aprilie 2016
Matematică
 Barem

Partea I 7x5p=35p

1	2	3	4	5	6	7
b	b	d	d	c	b	c

Partea a II-a 7x5p=35p

1	2	3	4	5	6	7
1833	200	96	20	36	2 04și409	8972

Partea a III-a 20p

1.

1. Realizarea graficului.....2 puncte

2. Suma dintre deîmpărțit și împărțitor:

$328-21-6=301$1 punct

3. Suma părților egale:

$301-21=280$2 puncte

4. Numărul părților egale

$6+1=7$1 punct

5. Împărțitorul:

$280:7=40$2 puncte

6. Deîmpărțitul:

$40 \times 6 + 21 = 261$2 puncte

2.

1. Realizarea graficului.....2 puncte

2. Numărul părților egale:

$6+3+1=10$2 puncte

3. Al III-lea număr:

$360:10=36$2 puncte

4. Al II-lea număr:

$36 \times 3 = 108$2 puncte

5. Primul număr:


$108 \times 2 = 216$2 puncte

10p oficiu

Nume și prenume	Școala	Profesor



MINISTERUL EDUCAȚIEI ȘI CERCETĂRII ȘTIINȚIFICE
INSPECTORATUL ȘCOLAR JUDEȚEAN ARGEȘ
ȘCOALA GIMNAZIALĂ „MATEI BASARAB” – PITEȘTI
Str. Ghe. Ionescu Gion Nr.5, 110310; Tel/fax: 0248.28.55.17
<http://www.scoalamateibasarab.ro>



Concursul județean „Școala dă aripi spre lumină”
Clasa a-IV-a, 21 aprilie 2016
Educație civică

Partea I.

5p

Încercuiește răspunsul corect. Numai un răspuns este corect:

1. Alegeți cuvântul care caracterizează relația de prietenie:

- a) egoism b) toleranță c) invidie d) ură

5p

3. Alegeți cuvântul cu același sens pentru *conflict*:

- a) comunicare b) cooperare c) ceartă d) colaborare

5p

3. Relația de prietenie presupune:

- a) conflicte b) încredere c) discuții aprinse d) violență

5p

4. Care este cuvântul cu sens asemănător pentru *prieten*?

- a) vecin b) amic c) văr d) frate

5p

5. Care este *intrusul*?

- a) colaborare b) încredere c) ajutor d) lider

5p

6. Care este însușire morală negativă?

- a) sacrificiu b) toleranță c) indiferența d) devotamentul

5p

7. Nu reprezintă o caracteristică a unui lider:

- a) autoritar b) prietenos c) perseverent d) înalt

Partea a II-a:

Scriveți informația corectă care completează spațiile punctate:

5p

1. Relațiile de prietenie presupun (cel puțin 3 elemente)

2. Orice grup de joacă poate avea unși reguli care trebuie respectate.

5p

3. Următoarea propoziție este.....(A/F):

Prietenia nu poate exista între persoane de aceeași religie.

5p

4. Următoarea propoziție este.....(A/F):

Prietenii sunt aceia de care ești legat printr-o afecțiune deosebită, stimă și atașament reciproc.

5p

5. Următoarea propoziție este.....(A/F):

Prietenia nu poate exista între persoane cu aceleași profesii.

5p

Concursul județean „Școala dă aripi spre lumină”
Clasa a-IV-a, 21 aprilie 2016
Educație civică

Barem

Partea I. 7x5p=35 p

1	2	3	4	5	6	7
b	c	b	b	d	c	d

Partea a II-a 7x5p=35p

1	2	3	4	5	6	7
Încredere Ajutor Colaborare Cinste Sinceritate Preocupări comune Toleranță Spirit de sacrificiu	lider	falsă	adevărată	falsă	falsă	Prietenul la nevoie se cunoaște. ș.a.

Partea a III-a 20p.

1.

1. titlu.....1 punct

2. trăsături morale necesare 4 puncte

3. trăsături care destramă relațiile de prietenie 4 puncte

4. înlănțuire logică..... 1 punct

2.

1. titlu.....1 punct

2. 3 actiuni.....9 puncte

10p oficiu